
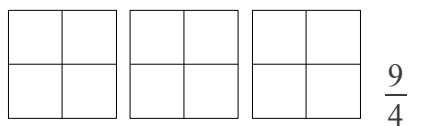
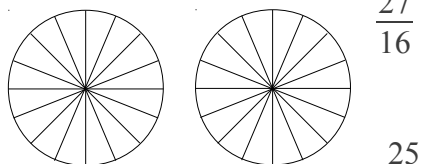
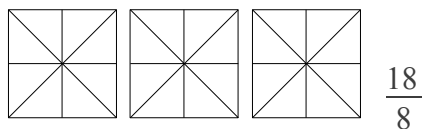
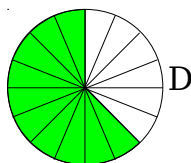
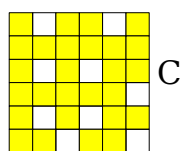
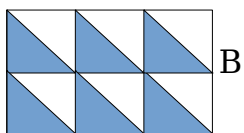
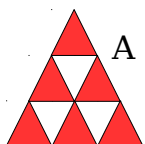


NOMBRES : Écrire quelques fractions

N.12.J – Colorie les fractions demandées.



N.12.O – Pour chaque figure, écris la fraction coloriée.

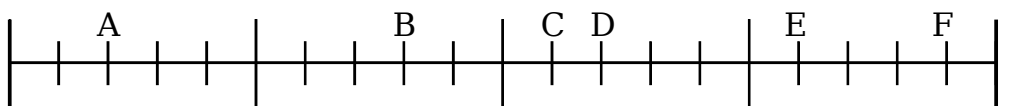


N.12.V – Écris les fractions en chiffres.

sept quarts ; vingt-cinq douzièmes ; quarante tiers ; treize demis ;
trente huitièmes ; quinze dix-huitièmes ; trente-deux quarts ; un demi ;
neuf tiers ; trois cent-dixièmes ; dix-neuf trentièmes ; deux quarts

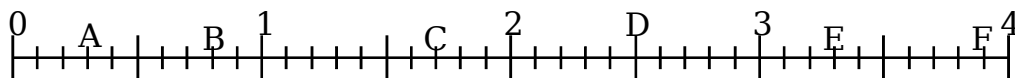
N.12.B – Écris les fractions qui correspondent à chacune des lettres

sous la forme : $\frac{a}{b}$ Exemple : $\frac{9}{4}$




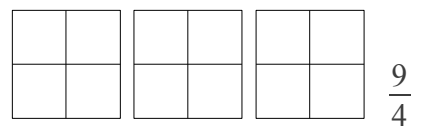
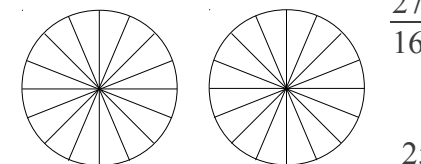
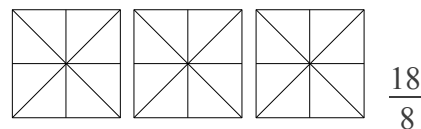
N.12.M – Écris les fractions qui correspondent à chacune des lettres

sous la forme : $a + \frac{c}{d}$ Exemple : $3 + \frac{1}{4}$

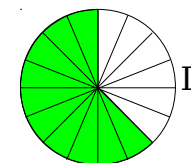
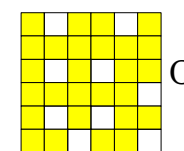
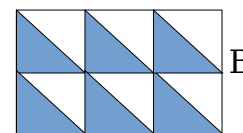



NOMBRES : Écrire quelques fractions

N.12.J – Colorie les fractions demandées.



N.12.O – Pour chaque figure, écris la fraction coloriée.

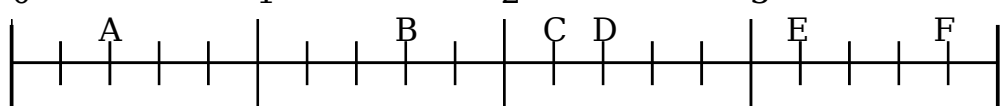


N.12.V – Écris les fractions en chiffres.

sept quarts ; vingt-cinq douzièmes ; quarante tiers ; treize demis ;
trente huitièmes ; quinze dix-huitièmes ; trente-deux quarts ; un demi ;
neuf tiers ; trois cent-dixièmes ; dix-neuf trentièmes ; deux quarts

N.12.B – Écris les fractions qui correspondent à chacune des lettres

sous la forme : $\frac{a}{b}$ Exemple : $\frac{9}{4}$



N.12.M – Écris les fractions qui correspondent à chacune des lettres

sous la forme : $a + \frac{c}{d}$ Exemple : $3 + \frac{1}{4}$

