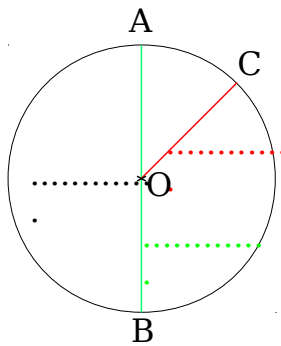


GÉOMÉTRIE : Reconnaître et décrire le cercle



Ge.7.J - Complète le schéma et les phrases ci-dessous.




Le point O est le du

Le segment [AB] est un

Le segment [OC] est un

Le mesure la du

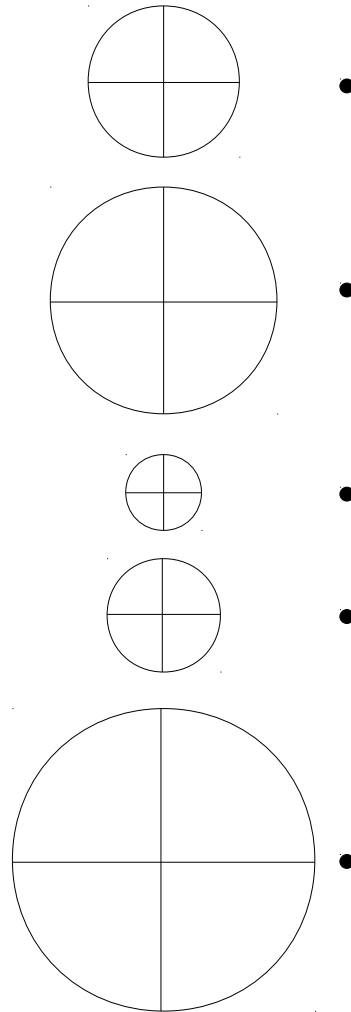
Ge.7.O – Repasse uniquement les cercles.



Ge.7.V – Repasse uniquement les cercles.



Ge.7.B – Relie chaque cercle à la mesure qui convient.



● Diamètre = 1 cm

● Rayon = 2 cm

● Rayon = 1,5 cm

● Rayon = 1 cm

● Diamètre = 1,5 cm

Ge.7.M - Pour chaque figure, explique pourquoi il ne s'agit pas d'un cercle.

