



**GÉOMÉTRIE : Résoudre des problèmes de reproduction**

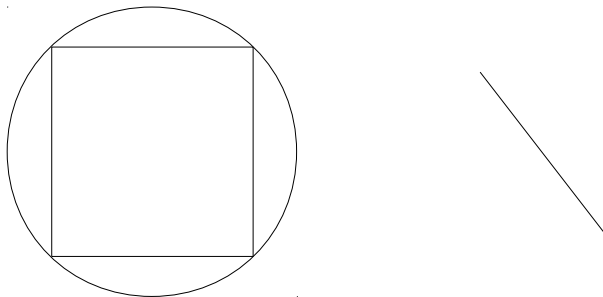
**Ge.40.J – Reproduis la figure dans le quadrillage.**



**Ge.40.O – Reproduis la figure comme le modèle.**




**Ge.40.V – Reproduis la figure comme le modèle.**



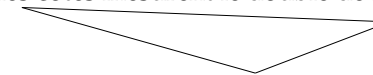
**Ge.40.B – Résous le problème donné**

Pierre a utilisé le photocopieur pour réduire la figure suivante. Chaque longueur a été réduite de moitié. Trace avec tes instruments ce qu'il a obtenu en grandeurs réelles.

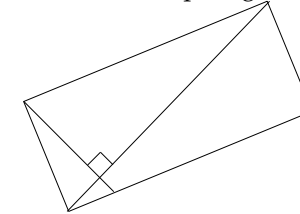


**Ge.40.M – Construis ce qui est demandé sur une feuille blanche.**

1. Tracer un triangle dont les côtés mesurent le double de la figure ci-dessous.



2. Reproduire cette figure deux fois et demie plus grande et dans une autre position.



**Ge.40.N – Construis le symétrique de chaque figure par rapport à l'axe bleu**

