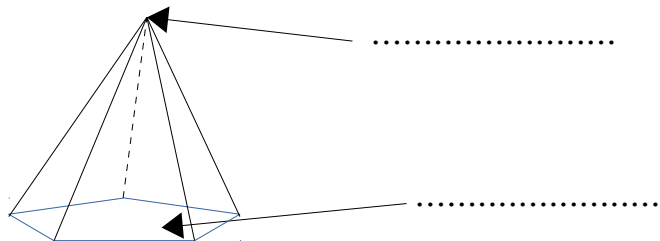


GÉOMÉTRIE : Reconnaître et décrire les différentes pyramides

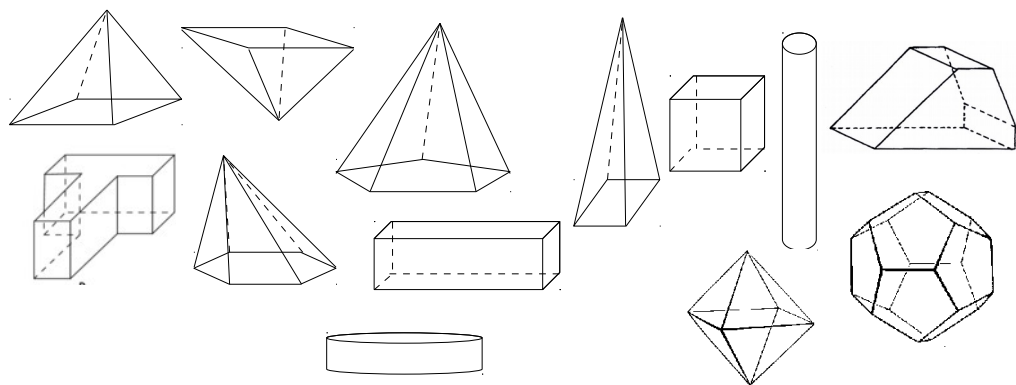


Ge.29.J – Complète le texte à trou et le schéma avec les mots qui conviennent.

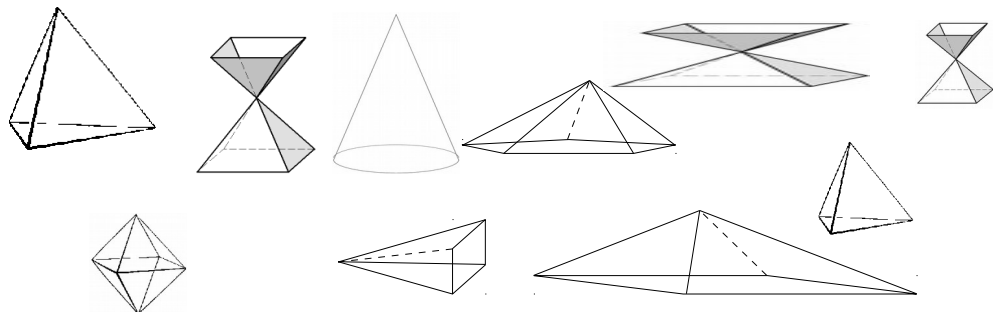
Une est un solide dont toutes les
sont et se rejoignent en un point appelé l'
..... Un forme leur



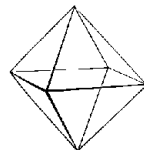
Ge.29.O – Parmi ces figures, colorie uniquement les pyramides.

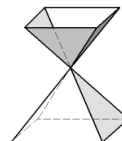


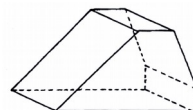
Ge.29.V – Parmi ces figures, colorie uniquement les pyramides.



Ge.29.B – Pour chaque solide, explique pourquoi il ne s'agit pas d'une pyramide.







Ge.29.M – Dessine une pyramide à base carrée et une pyramide à base pentagonale.