




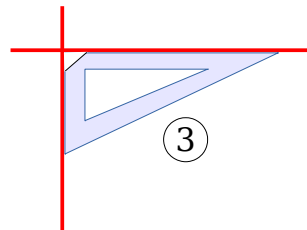
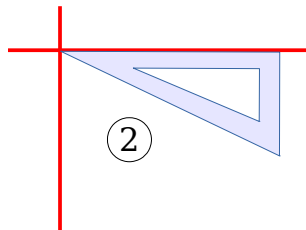
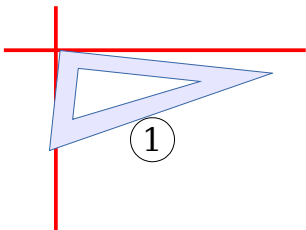
## GÉOMÉTRIE : Reconnaître et percevoir des angles droits

Ge.15.J - Indique cinq objets autour de toi qui possèdent un ou plusieurs angles droits.

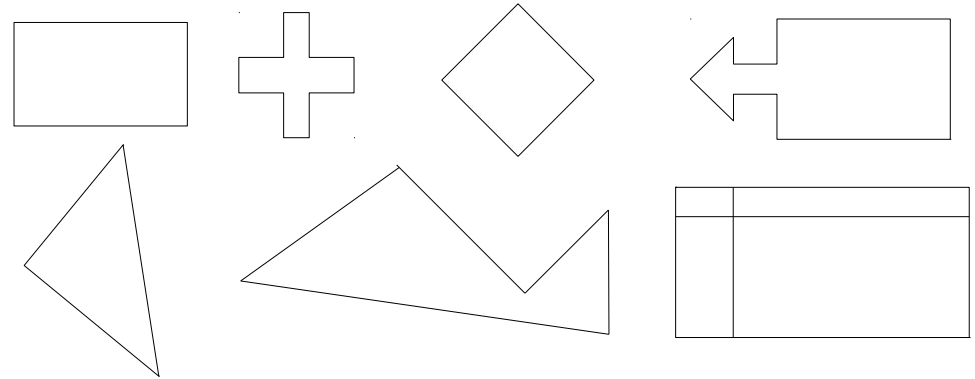
Ge.15.O – Dans chaque image indique chaque angle droit par un carré rouge.




Ge.15.V – Pour chaque situation, explique pourquoi l'équerre ne permet pas de vérifier un angle droit.



Ge.15.B – Pour chacune des figures, indique les angles droits par le symbole : **L**



Ge.15.M - Combien d'angles droits cette figure comporte-t-elle ? Marque-les avec le symbole : **L**



Ge.15.N – Combien d'angles droits cette figure comporte-t-elle ? Marque-les avec le symbole : **L**

