

Je m'appelle	Date :
Lire l'heure sur une horloge à aiguilles : les heures et les minutes	Mesures 9

Lire l'heure sur une horloge à aiguilles

Dictée de nombres

--	--	--	--	--	--	--	--	--	--

1. Complète le texte ci-dessous.

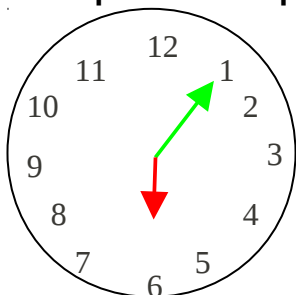
Sur une horloge, la aiguille indique les et la indique les

Lorsque je veux lire l'heure, je lis le nombre montré par la aiguille, puis celui montré par la aiguille.

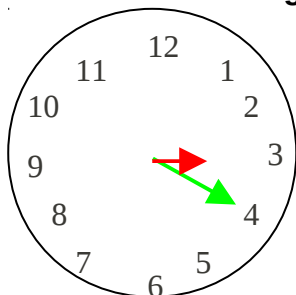
Les nombre écrits autour de l'horloge indiquent les Pour les, se regarde les petits traits entre chaque nombre. Pour connaître les de chaque nombre, je compte de en

Complète le nombre de minutes pour chaque nombre autour de l'horloge.

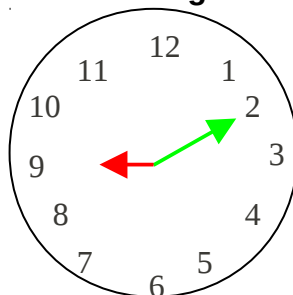
2. Complète les étiquettes des heures en regardant les horloges.



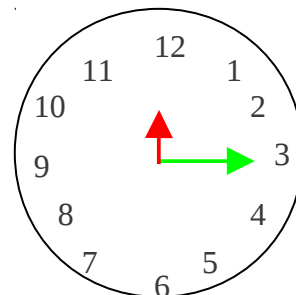
Il est heures



Il est heures

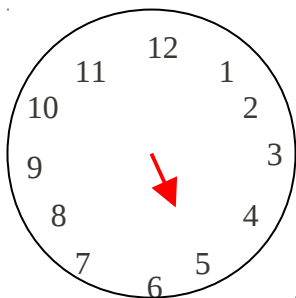


Il est heures




Il est heures

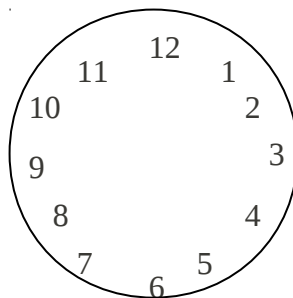
3. Dessine les aiguilles manquantes pour chacune des horloges.



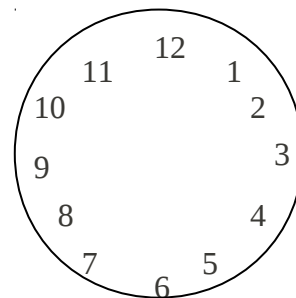
Il est 5 heures 15



Il est 3 heures 10



Il est 7 heures 20



Il est 10 heures 25