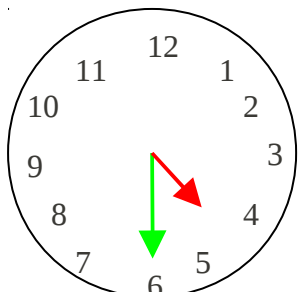


Lire l'heure sur une horloge à aiguilles

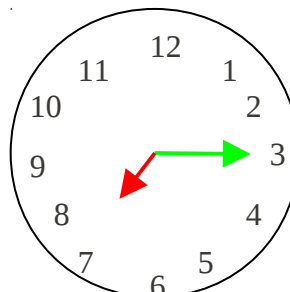
Écris le résultat du calcul donné. (soustraire des petits nombres)

--	--	--	--	--	--	--	--	--	--

1. Observe et complète.



Il est 4 heures et demie

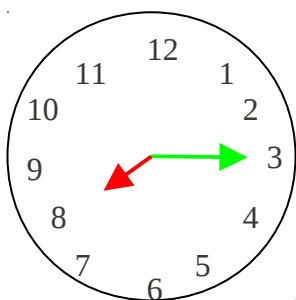


Il est 7 heures et quart

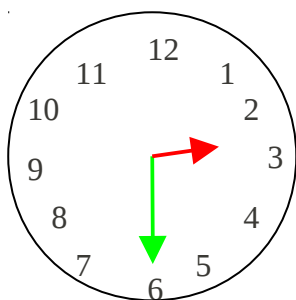
Lorsqu'il est 4 heures et demie, la **petite aiguille** est entre le et le la **grande** sur le

Lorsqu'il est 7 heures et quart, la **petite aiguille** est sur le et la **grande** sur le

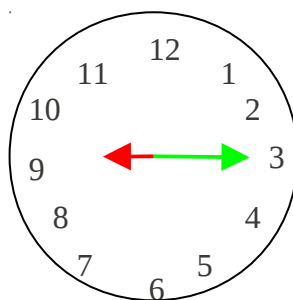
2. Complète les étiquettes des heures en regardant les horloges.



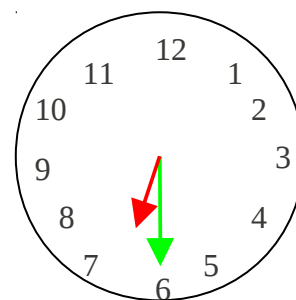
Il est heures et



Il est heures et

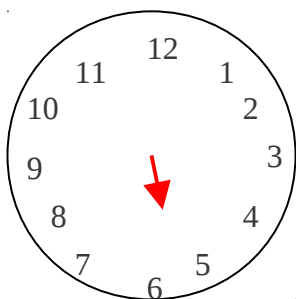


Il est heures et




Il est heures et

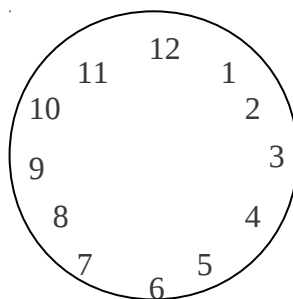
3. Dessine les aiguilles manquantes pour chacune des horloges.




Il est 5 heures et demie



Il est 10 heures et quart



Il est 3 heures et quart



Il est 2 heures et demie