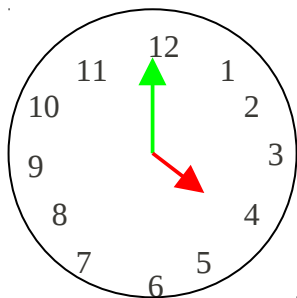


Lire l'heure sur une horloge à aiguilles

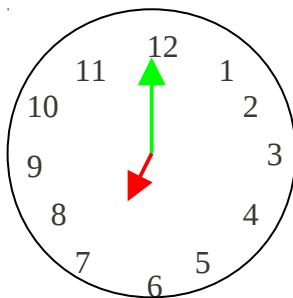
Écris le résultat du calcul donné. (ajouter des centaines et des dizaines entières)

--	--	--	--	--	--	--	--	--	--

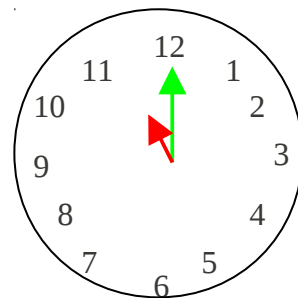
1. Observe et complète.



Il est 4 heures



Il est 7 heures



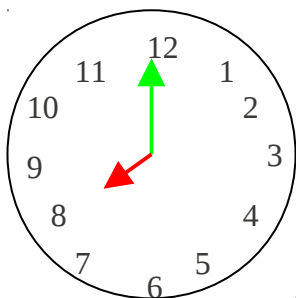
Il est 11 heures

Lorsqu'il est 4 heures, la **petite aiguille** est sur le et la **grande** sur le

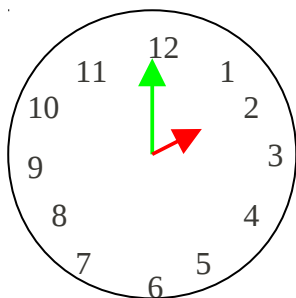
Lorsqu'il est 7 heures, la **petite aiguille** est sur le et la **grande** sur le

Lorsqu'il est 11 heures, la **petite aiguille** est sur le et la **grande** sur le

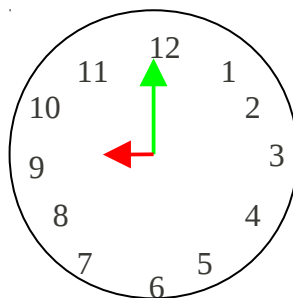
2. Complète les étiquettes des heures en regardant les horloges.



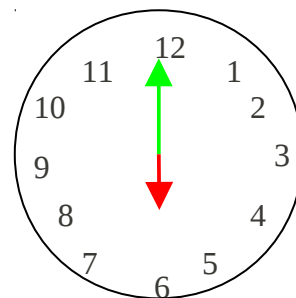
Il est heures



Il est heures

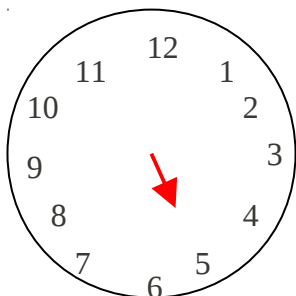


Il est heures

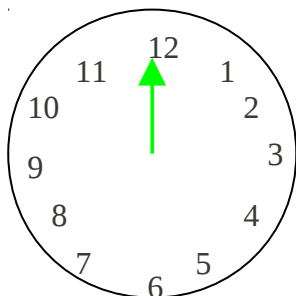


Il est heures

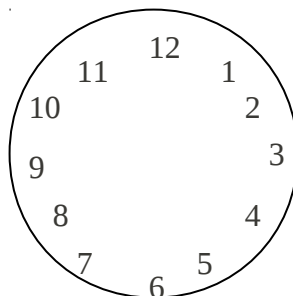
3. Dessine les aiguilles manquantes pour chacune des horloges.



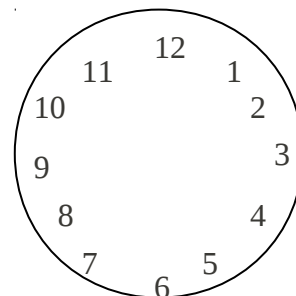
Il est 5 heures



Il est 10 heures



Il est 3 heures



Il est 2 heures