

Lire l'heure sur une horloge à aiguilles

Dictée de nombres

--	--	--	--	--	--	--	--	--	--

1. Écris le nombre de minutes correspondant à chaque nombre écrit sur l'horloge.

La grande aiguille est sur le 12, il y a minutes.

La grande aiguille est sur le 8, il y a minutes.

La grande aiguille est sur le 6, il y a minutes.

La grande aiguille est sur le 4, il y a minutes.

La grande aiguille est sur le 11, il y a minutes.

La grande aiguille est sur le 9, il y a minutes.

La grande aiguille est sur le 1, il y a minutes.

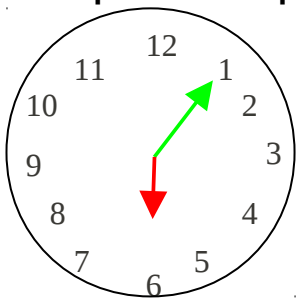
La grande aiguille est sur le 3, il y a minutes.

La grande aiguille est sur le 10, il y a minutes.

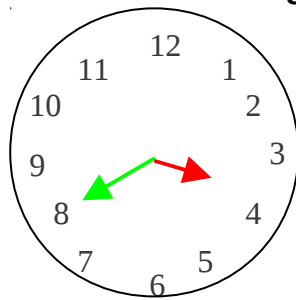
La grande aiguille est sur le 7, il y a minutes.

La grande aiguille est sur le 5, il y a minutes.

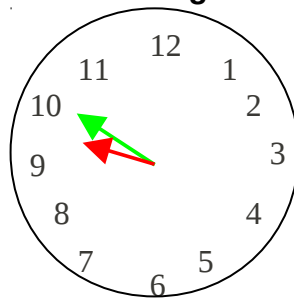
La grande aiguille est sur le 2, il y a minutes.

2. Complète les étiquettes des heures en regardant les horloges.

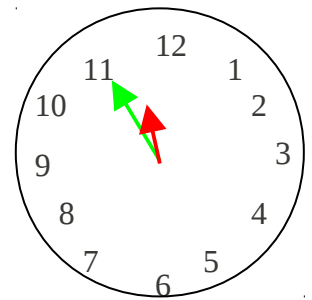
Il est heures



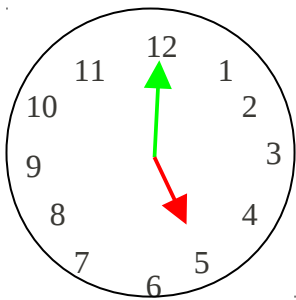
Il est heures



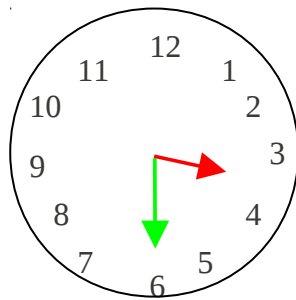
Il est heures



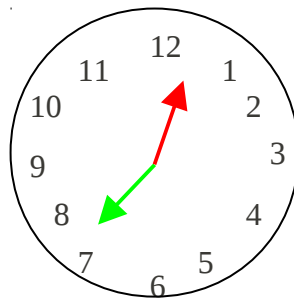
Il est heures



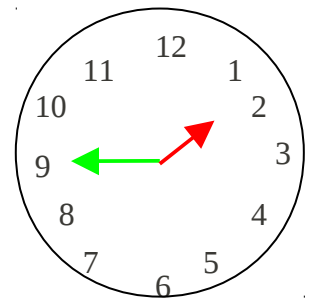
Il est heures



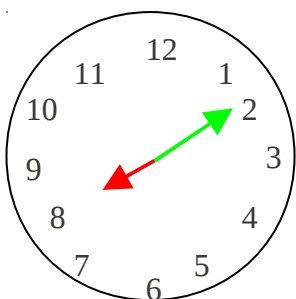
Il est heures



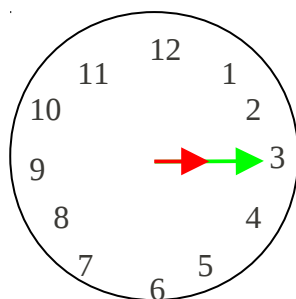
Il est heures



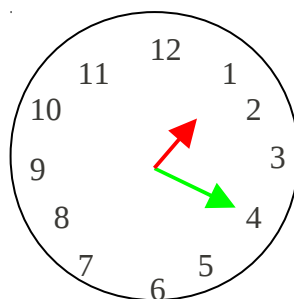
Il est heures



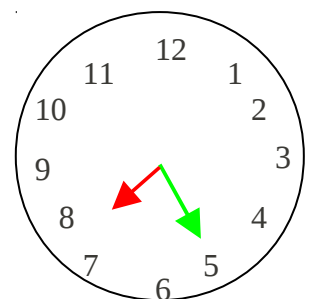
Il est heures



Il est heures



Il est heures



Il est heures