

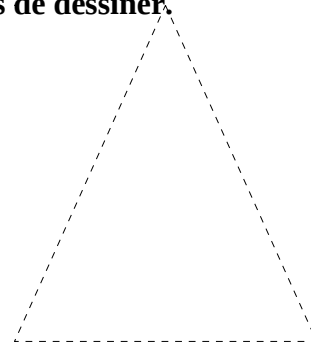


Je m'appelle	Date :
Construire les formes simples : triangle, carré et rectangle	Géométrie 3

**Construire des formes simples**

Écris le nombre dicté.

--	--	--	--	--	--	--	--	--	--

**1. Repasse avec ta règle sur les pointillés et écris le nom de la figure que tu viens de dessiner.**

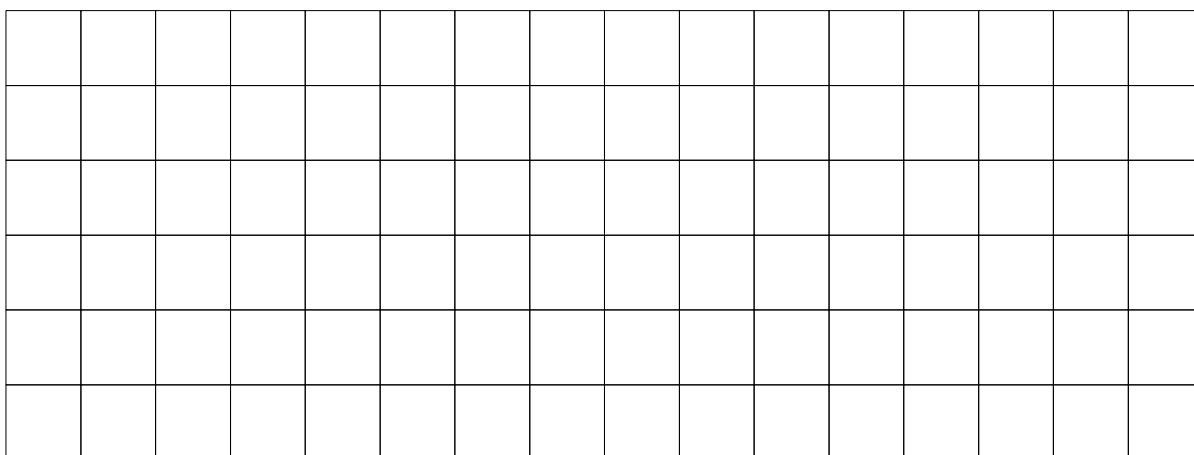


\_\_\_\_\_



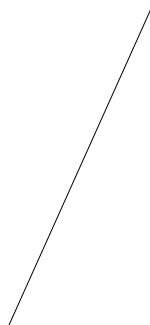
\_\_\_\_\_

\_\_\_\_\_

**2. Dessine un carré, un rectangle et un triangle.**



**3. Complète les dessins pour construire un carré, un rectangle et un triangle.**



**4. Derrière la feuille dessine un carré, un rectangle et un triangle. Pense bien à utiliser ta règle.**