

Je m'appelle :

Date :


Compétence : Calculer des écarts.

Calcul 19

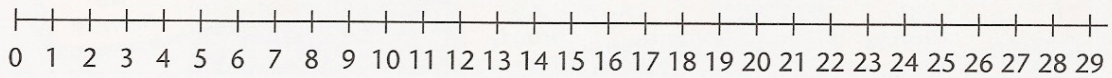
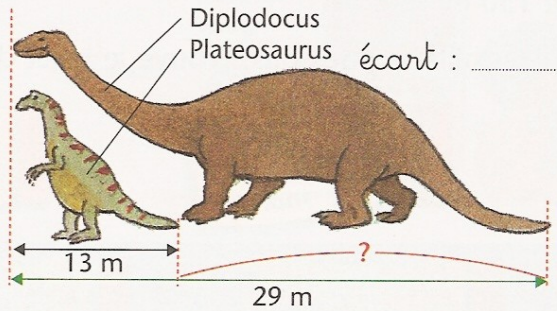
Calcul mental: Petites différences du types 10-3...

Piste de recherche

Calcule l'écart entre les hauteurs des deux dinosaures.



Calcule l'écart entre les longueurs de ces deux autres dinosaures.



Complète :

12 - =




L'écart de hauteur est m.

Complète :

..... =

L'écart de longueur est m.

1 Complète le tableau.

		Taille à la naissance	Taille adulte	Écart de taille
L'orque		2 m	9 m m
La baleine à bosse		4 m	19 m m
Le rorqual bleu		6 m	23 m m

2- Le maître mesure 180 cm. La maîtresse mesure 160cm. Calcule leur écart de taille.

Opération: _____

Phrase réponse: _____

3- Ibrahim a 48 cartes pokémon. Gabriel a 35 cartes pokémon. Calcule l'écart de cartes.

Opération: _____

Phrase réponse: _____